









10 km route 2

2/01	2/02	2/03	2/04
51.533382,4.4558989 	51.519282,4.549690 	51.514532,4.552462 	51.502985,4.550783 
Wat is de naam van het gebouw met nummer 2B?	Wat voor oefenterrein is dit?	Wat voor gebied verlaat u bij dit bord?	Wat levert dit bedrijf?
2/05	2/06	2/07	2/08
51.505440,4.540833 	51.513700,4.548741 	51.525995,4.541075 	51.532671,4.556691 
Over welke koning hebben we het hier?	Welk nummer staat er op het bord Fietsen doe je in Brabant?	Wat is de elleboog hier?	Wie wordt hier herdacht en is gefusilleerd in Vught?

- Scan de 1^e QR code of voer het 1^e coördinaat in Google maps en volg de route naar dat punt.
 - Beantwoord de vraag op dit punt.
 - Scan de 2^e QR code of voer het 2^e coördinaat in en loop door naar dat punt
 - Zo scant u alle QR codes of voert u alle coördinaten in en loopt u de 10 km route.
 - Maak tijdens de route een selfie op één van de herkenningspunten
 - De mooiste foto wint een prijs
- Veel wandelplezier!